

Aujourd'hui...



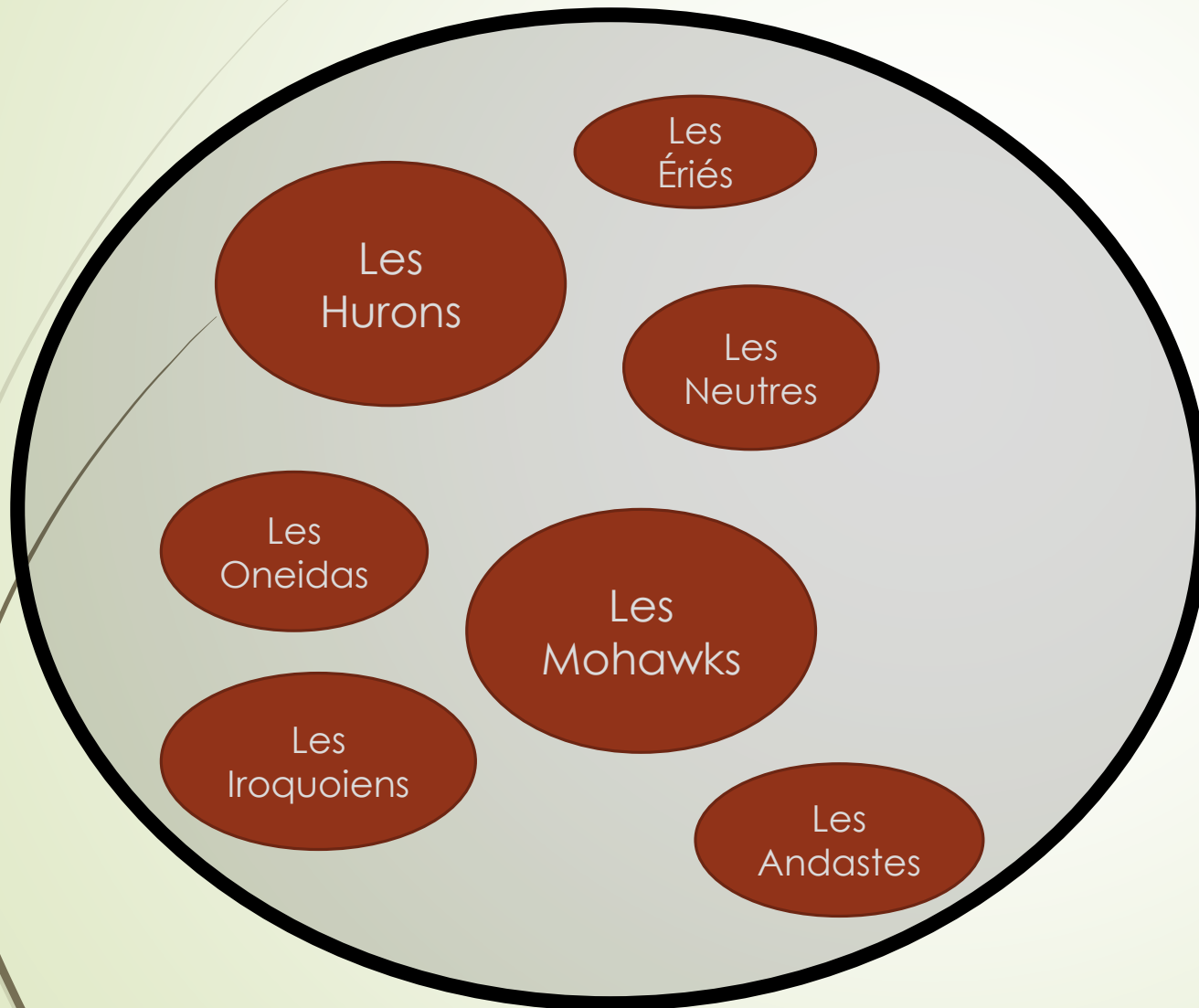
- La population
- Les personnages marquants

La population – COMBIEN SONT-ILS ?

Nations iroquoiennes	Nombre	Territoire	Aujourd'hui
Les Hurons	30 000	Ils vivent au sud-est du lac Huron, au sud de la baie Géorgienne.	En Ontario.
Les Neutres	20 000	Ils habitent au nord du lac Érié.	En Ontario.
Les Cinq Nations iroquoises : - Mohawks (Agniers); - Oneidas (Onneiouts); - Onondagas (Onontagués); - Cayugas (Goyogoins); - Senecas (Tsonmontouans)	20 000	Leur territoire est situé au sud du lac Ontario.	Dans l'État de New York aux États-Unis.
Les Iroquoiens du Saint-Laurent	10 000	C'est la seule nation qui habite la vallée du Saint-Laurent. Ils sont répartis dans plusieurs villages, dont Stadaconé (Québec) et Hochelaga (sur l'île de Montréal). Jacques Cartier les rencontre lors de ses voyages mais ils n'y sont plus lorsque les Français s'installent dans la vallée du Saint-Laurent au début du 17 ^e siècle.	Au Québec.
Les Ériés	8 000	Ils habitent sur la rive sud du lac Érié.	Aux États-Unis.
Les Andastes	7 000	Ils vivent le long de la rivière Susquehana.	En Pennsylvanie aux États-Unis.
Les Pétuns	5 000	Ils vivent près des Hurons, au sud de la baie Géorgienne.	En Ontario.
Total :	100 000		

En 1500, il y a environ 100 000 Iroquoiens sur leur territoire.

Divisés en plusieurs nations...

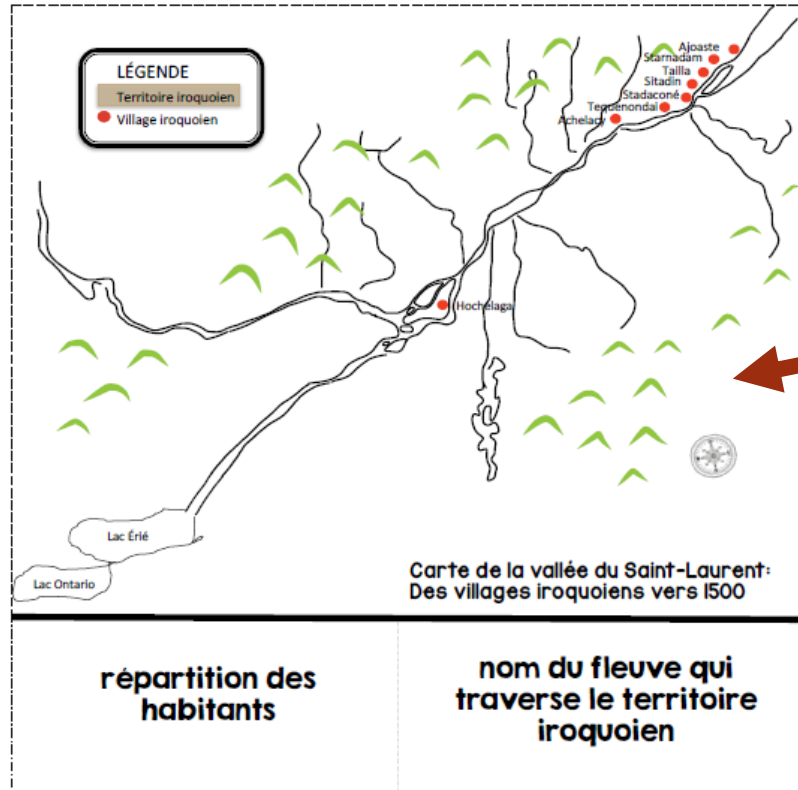


- Se sont tous des iroquoiens
- Partagent la même langue
- Se ressemblent

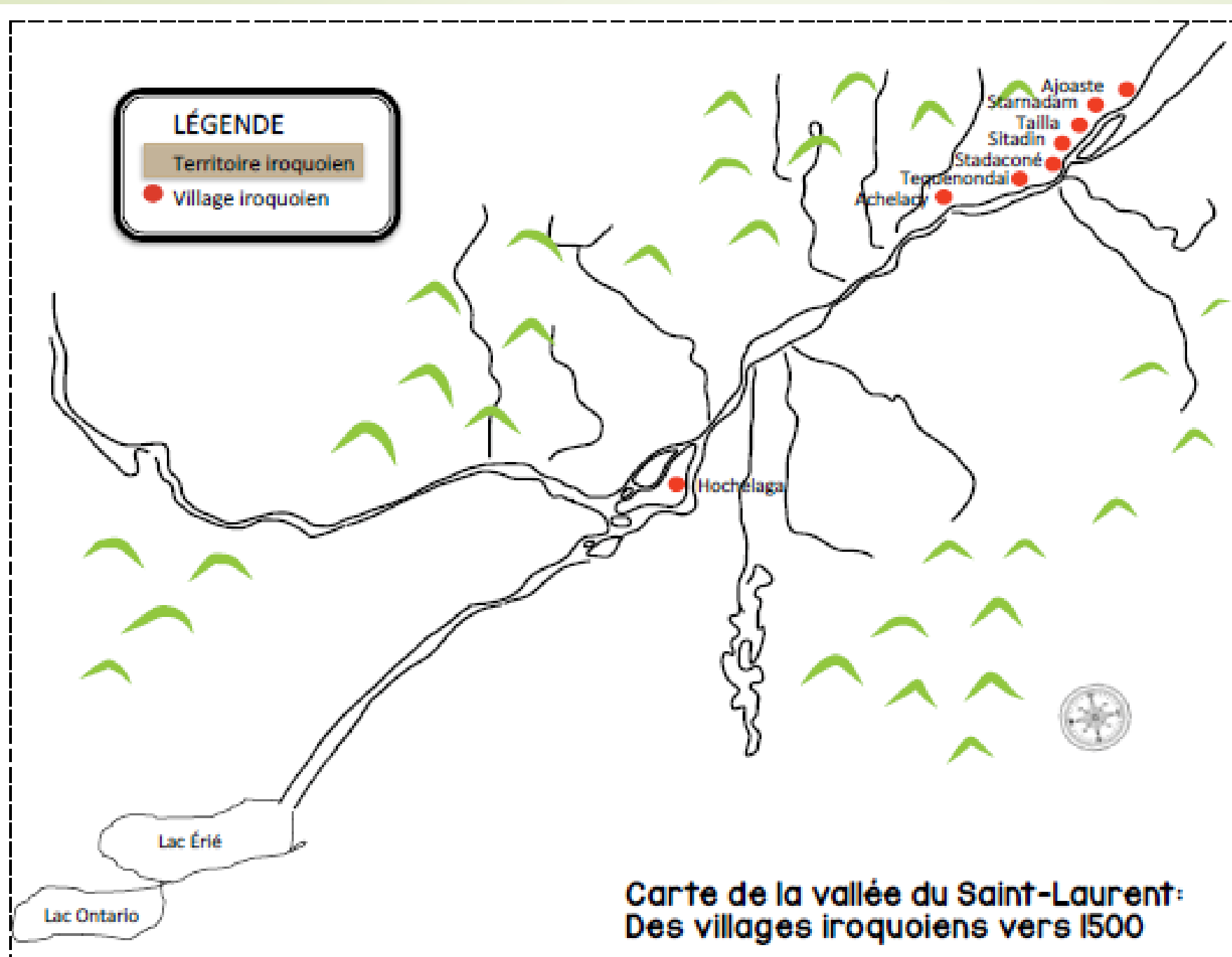
MAIS

- Possèdent un territoire différent

Les habitants



À coller



Colorier le territoire
des iroquoiens.

Mettre en vert les V

Mettre en rouge les
villages



**répartition des
habitants**

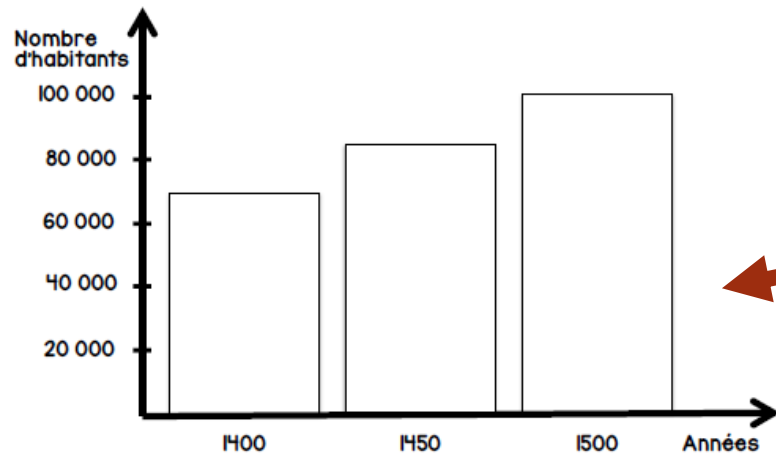
En bordure du
Fleuve Saint-
Laurent et des
lacs Érié et
Ontario.

**nom du fleuve qui
traverse le territoire
iroquoien**

Fleuve Saint-Laurent

Il prend sa source dans
les Grands lacs et se
déverse dans l'Océan
Atlantique.

Combien sont-ils?



Population iroquoise dans la vallée du St-Laurent



Que remarques-tu?

Qu'est-ce qui explique ça?

À coller

Nombre
d'habitants

100 000

80 000

60 000

40 000

20 000

1400

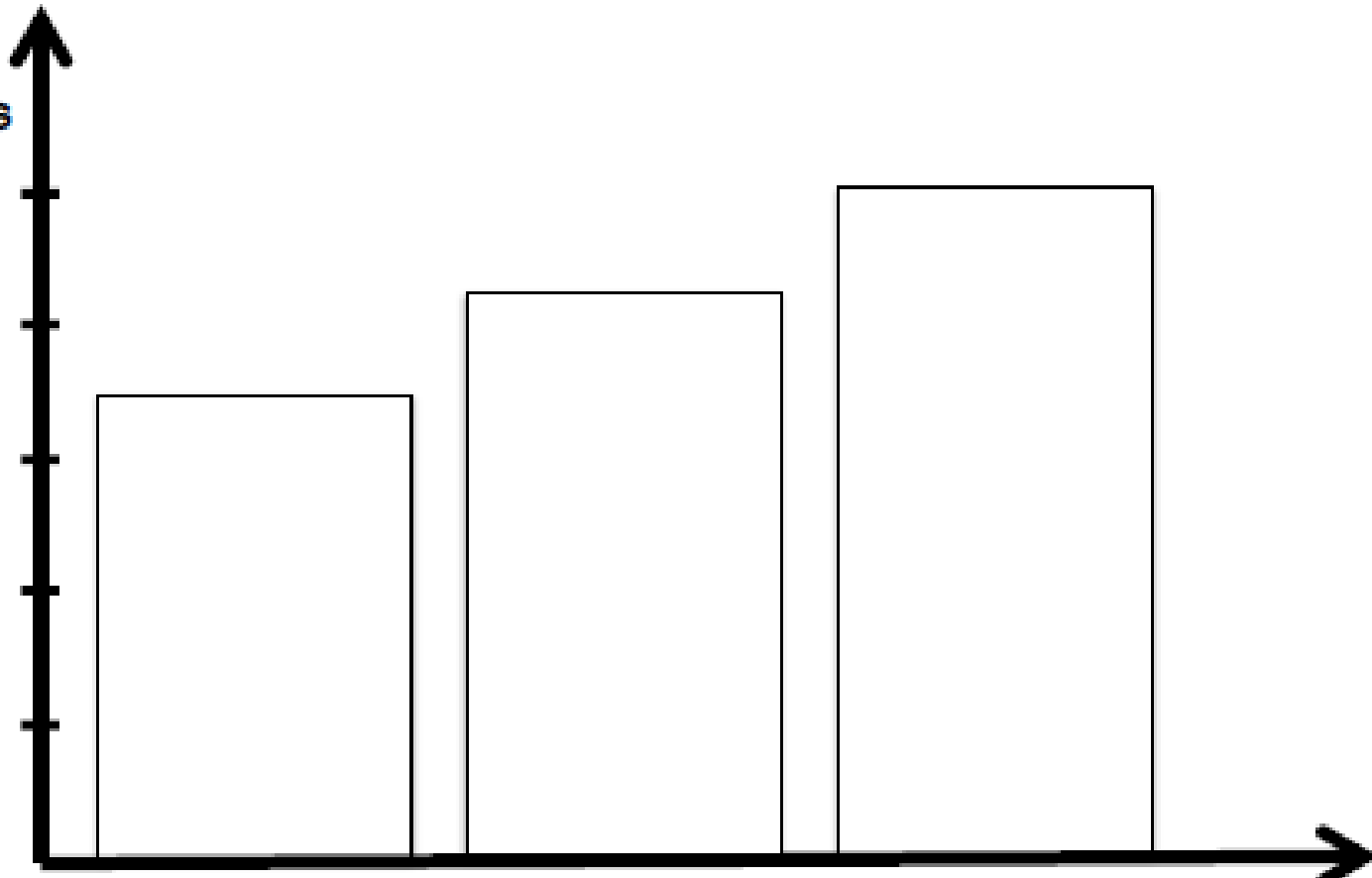
1450

1500

Années

Population iroquoise dans la vallée du St-Laurent

Colorier le graphique.



La population augmente pendant les années.



Que remarques-tu?

Qu'est-ce qui explique ça?

Les ressources naturelles et l'agriculture permettent aux familles de grandir.

Personnages marquants

Donnacoona



Chef amérindien de Stadaconé



Écris 2 choses que tu as retenues dans la vidéo.

Aujourd'hui, c'est la ville de Québec.