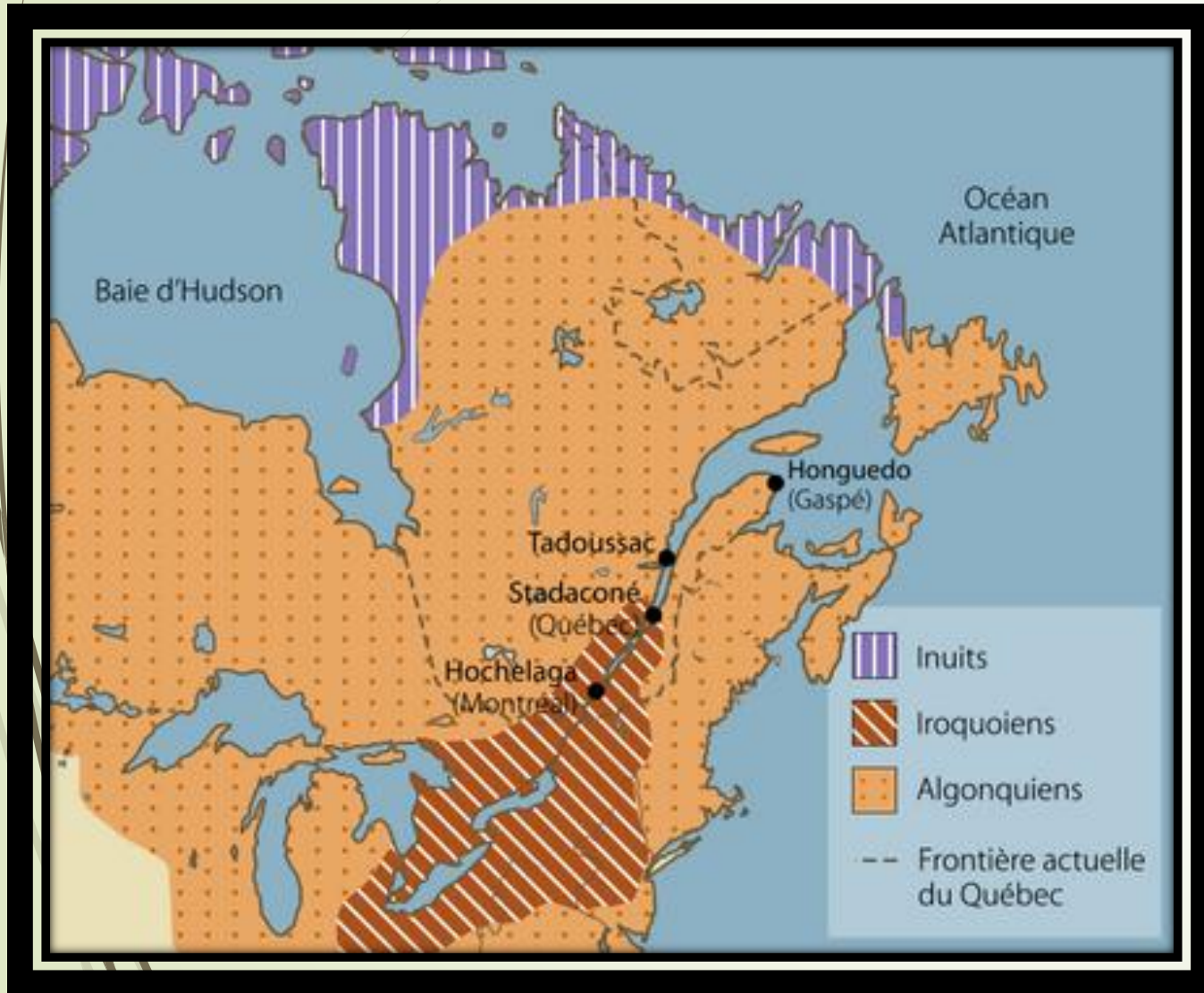


Le territoire iroquoien



Les iroquoiens vivent en grande partie au Québec, mais aussi en Ontario et aux États-Unis.


Les 3 plus grandes villes du Québec sont...

Montréal (Hochelaga)

Québec (Stadaconé)

Trois-Rivières

Le territoire iroquoien



Au Québec, il y a 3 régions physiographiques.

1) Le Bouclier canadien

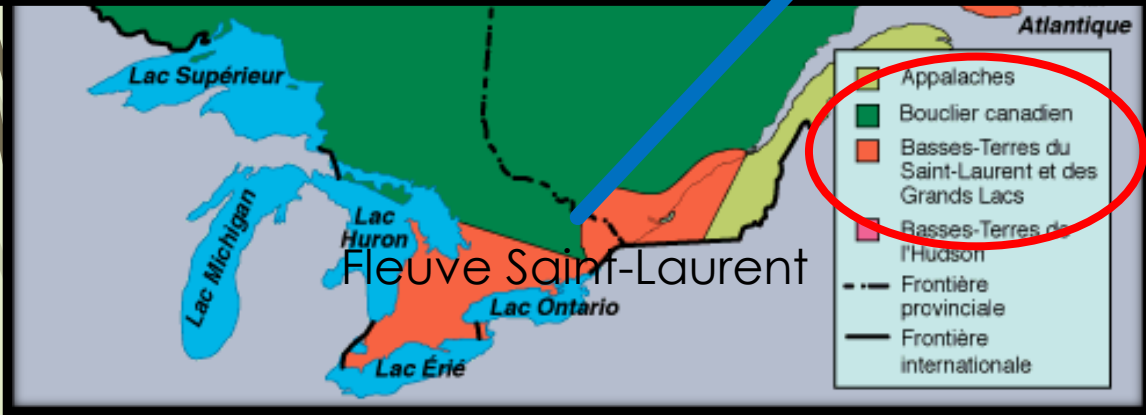
- Plateau surélevé

2) Les basses-terres du Saint-Laurent

- Terre fertile près de l'eau pour l'agriculture

3) Les Appalaches

- Chaîne de montagnes



Les iroquoïens habitent la région des basses-terres du Saint-Laurent et des grands-lacs



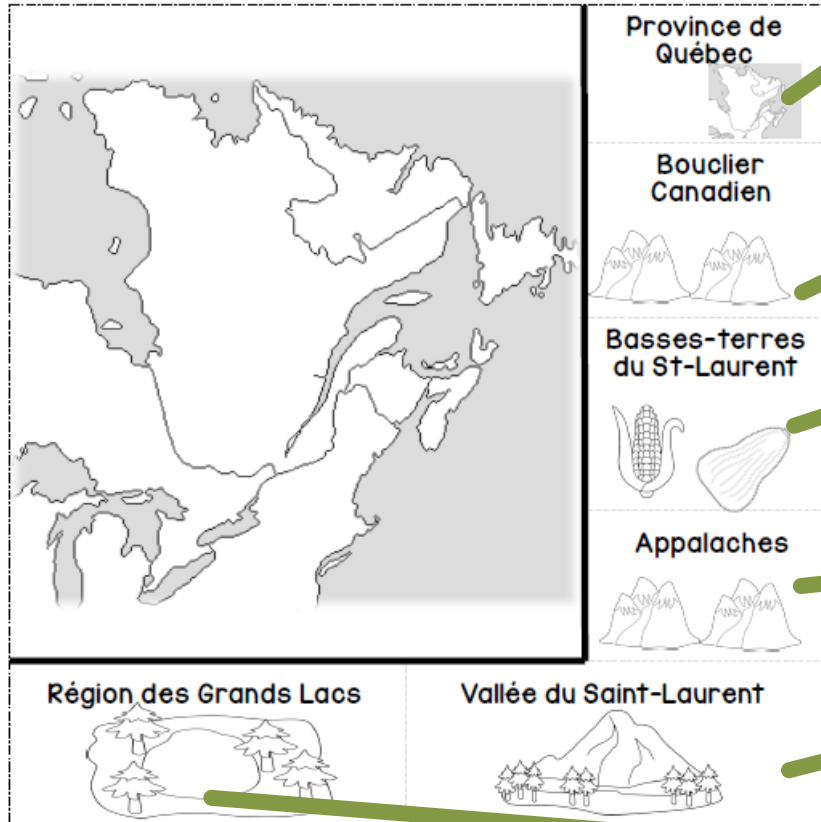


Les 5 lacs



Terrain plat et vaste

Territoire iroquoien



Les trois villes principales sont Montréal, Québec et Trois-Rivières.

Plateau surélevé

Terre fertile près de l'eau pour l'agriculture

Chaîne de montagnes

Terrain plat et vaste

MOSHE
Michigan, Ontario, Supérieur, Huron, Érié

Le territoire des Iroquoiens s'appelle l'Iroquoisie.

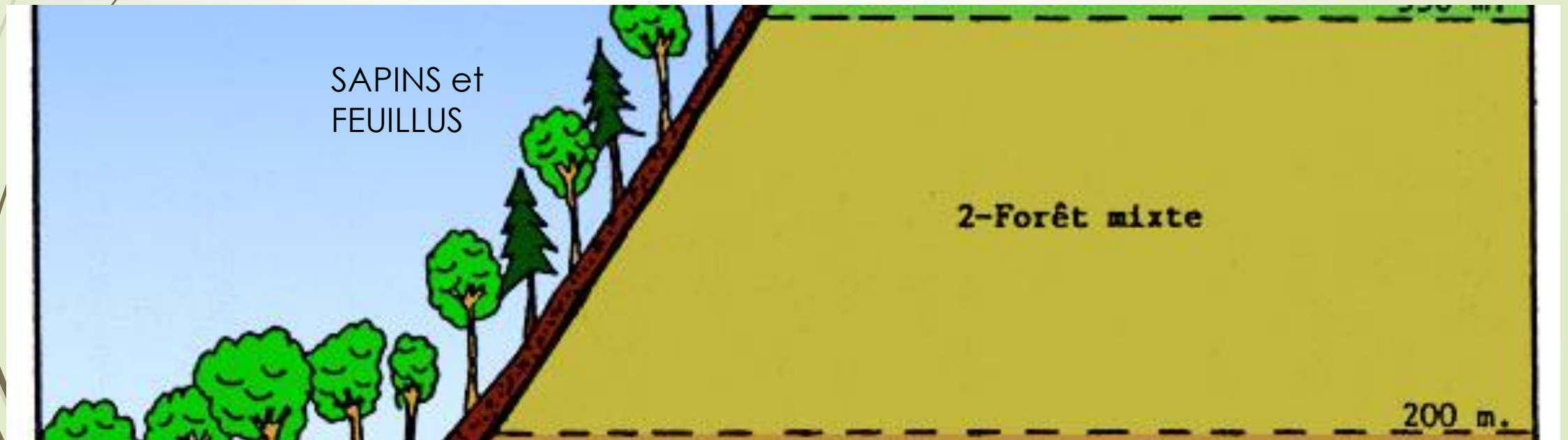
5

À écrire au bas de la page.

Les ressources naturelles

Les basses-terres du Saint-Laurent est un territoire riche en ressources naturelles.

La forêt dans laquelle ils habitent est la forêt mixte.



Les ressources naturelles

Les arbres de la forêt

Bois pour construire des maisons, des canots et des raquettes.

Les animaux de la forêt

Nourriture variée pour cuire et manger.

La peau, les plumes et le silex

Matériaux pour fabriquer des vêtements, des outils, des flèches et des souliers.



Un territoire riche en...

À écrire en haut du titre.

Ressources naturelles

À coller.

Dessiner des conifères et des feuillus.

Les Iroquoiens habitent dans la forêt mixte :



Coller seulement la partie noire.

Ce qu'ils trouvent dans la nature:



À coller en dessous.

