

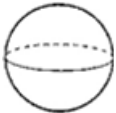
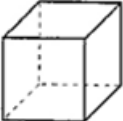

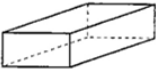
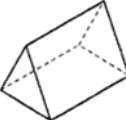
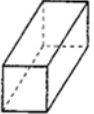




Prénom : \_\_\_\_\_




Les solides

Observe les solides et complète le tableau suivant.



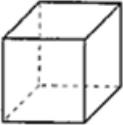


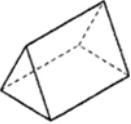
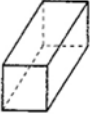


	Nombre de sommets	Nombre d'arêtes	Nombre de faces carrées	Nombre de faces rectangulaires	Nombre de faces triangulaires
 cylindre					
 boule					
 cube					
 cône					
 prisme à base rectangulaire					
 prisme à base triangulaire					
 prisme à base carrée					
 pyramide à base carrée					
 pyramide à base triangulaire					

Prénom :

corrigé



Observe les solides et complète le tableau suivant.

	Nombre de sommets	Nombre d'arêtes	Nombre de faces carrées	Nombre de faces rectangulaires	Nombre de faces triangulaires
 cylindre	0	2	0	1	0
 boule	0	0	0	0	0
 cube	8	12	6	0	0
 cône	1	1	0	0	0
 prisme à base rectangulaire	8	12	0	6	0
 prisme à base triangulaire	6	9	0	3	2
 prisme à base carrée	8	12	2	4	0
 pyramide à base carrée	5	8	1	0	4
 pyramide à base triangulaire	4	6	0	0	4